

Devoir 16

LECTURE DE PLAN

Classe :

Nom :

Date :

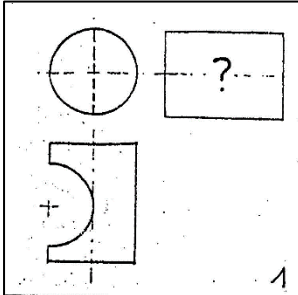
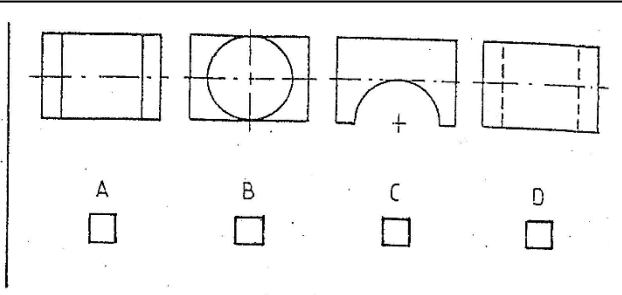
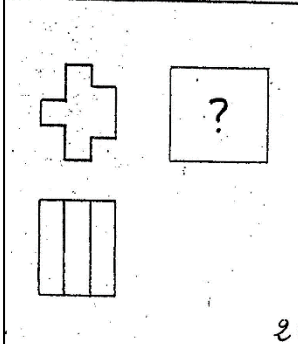
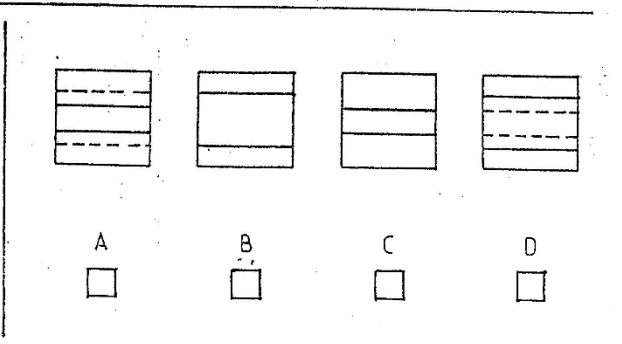
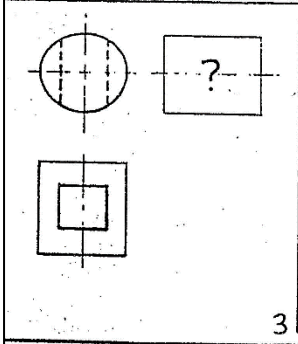
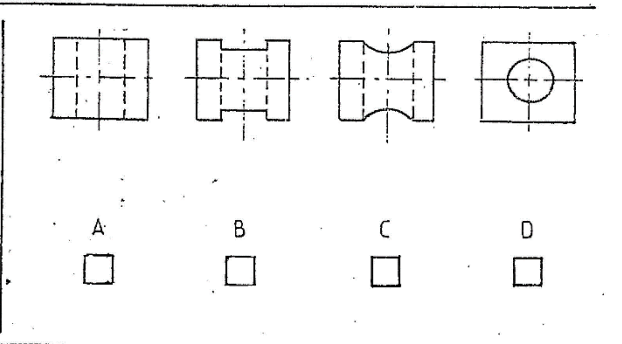
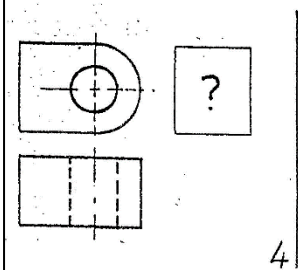
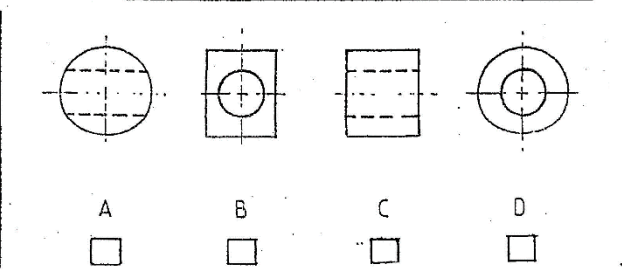
Classeur :
ATELIER HABITAT

On vous donne :

- Une vue de face et une vue de dessus.
- Différentes vues de gauche.

On vous demande :

- D'identifier la vue de gauche correspondante à celle observée sur la perspective.
- De cocher (par une croix) la vue de gauche identifiée. Cocher la bonne case ou noter les réponses sur un papier (exemple : 1 – A)

 <p>1</p>	 <p>A <input type="checkbox"/> B <input type="checkbox"/> C <input type="checkbox"/> D <input type="checkbox"/></p>
 <p>2</p>	 <p>A <input type="checkbox"/> B <input type="checkbox"/> C <input type="checkbox"/> D <input type="checkbox"/></p>
 <p>3</p>	 <p>A <input type="checkbox"/> B <input type="checkbox"/> C <input type="checkbox"/> D <input type="checkbox"/></p>
 <p>4</p>	 <p>A <input type="checkbox"/> B <input type="checkbox"/> C <input type="checkbox"/> D <input type="checkbox"/></p>